

Aufnahmeprüfung 2018		
BM	FMS / Gym So	FMS / Gym Ol
(zutreffendes ankreuzen)		
Prüfungsnummer: (auf jeder Seite oben links eintragen)		

Prüfungsfach: **Algebra und Geometrie**
 Prüfungsdauer: 90 Minuten
 Hilfsmittel: Ein nicht gleichungsauflösendfähiger, nicht algebräfähiger und nicht grafikfähiger Taschenrechner
 Konstruktionswerkzeug für Konstruktionen

Aufgabe	max. Punkte	err. Punkte
Aufgabe 1	5	
Aufgabe 2	4	
Aufgabe 3	4	
Aufgabe 4	5	
Aufgabe 5	4	
Aufgabe 6	4	
Aufgabe 7	3	
Aufgabe 8	5	
Total Punkte	34	
Total erreichte Punkte		

Prüfungsnote	
---------------------	--

- Die Lösungen müssen mit Tinte, Filzstift oder Kugelschreiber direkt auf das Aufgabenblatt geschrieben werden. Nur für die Konstruktion darf der Bleistift verwendet werden.
- Für die maximale Punktzahl wird ein vollständiger Lösungsweg erwartet.
- Falsche Lösungsansätze und ungültige Ergebnisse müssen deutlich als solche gekennzeichnet und durchgestrichen werden. Sind mehrere Lösungswege vorhanden, wird die Aufgabe nicht bewertet!
- Bei den Konstruktionen ist ein Lösungsbescrieb erforderlich. Die Konstruktionen sind vollständig durchzuführen (z.B. Tangentenkonstruktion mit Berührungspunkten).
- Prüfungsnummer auf dem Titelblatt und auf jeder Seite oben links eintragen.

Prf-Nummer:


Aufgabe 1 (2+3=5 Punkte)

a) Lösen Sie die Gleichung nach x auf. Grundmenge G=R.

$$4x - 5(3 - 2x) = 3(4x - 1) + 6x$$

b) Lösen Sie die Gleichung nach y auf. Grundmenge G=R.

$$\frac{4y + 3}{2} - \frac{2y + 2}{3} = 7$$



--

Prf-Nummer:

Aufgabe 2 (2+2=4 Punkte)

a) Gegeben ist der Term T: $T = \frac{a+3b}{a}$

Berechnen Sie den Term ohne Benutzung des Taschenrechners (Lösungsweg!) für

$a = \frac{9}{4}$ und $b = -\frac{2}{5}$

b) Der Wirt im Gasthof Krone färbt Eier für das Osterfest. Er produziert blaue, rote, grüne und gelbe Ostereier. Sieben Zwanzigstel aller Eier färbt er blau, 20 % färbt er rot, drei Achtel färbt er grün und die restlichen Eier färbt er gelb ein.

- i) Welchen Bruchteil aller Eier färbt er gelb ein?
- ii) Wie viele ganze Eier hat er mindestens eingefärbt?

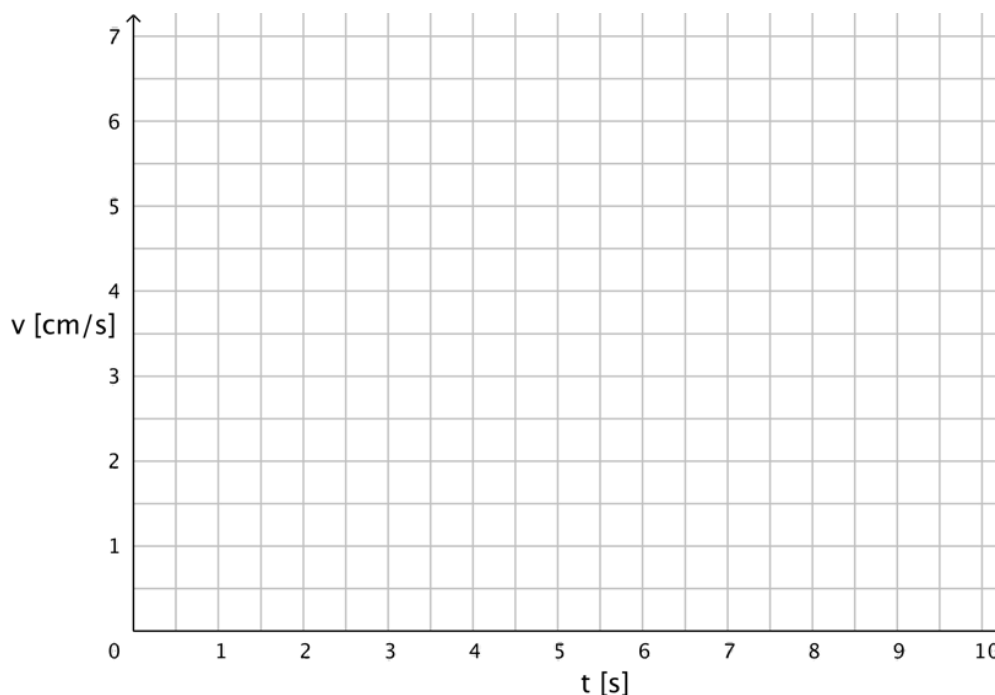
--

Prf-Nummer:

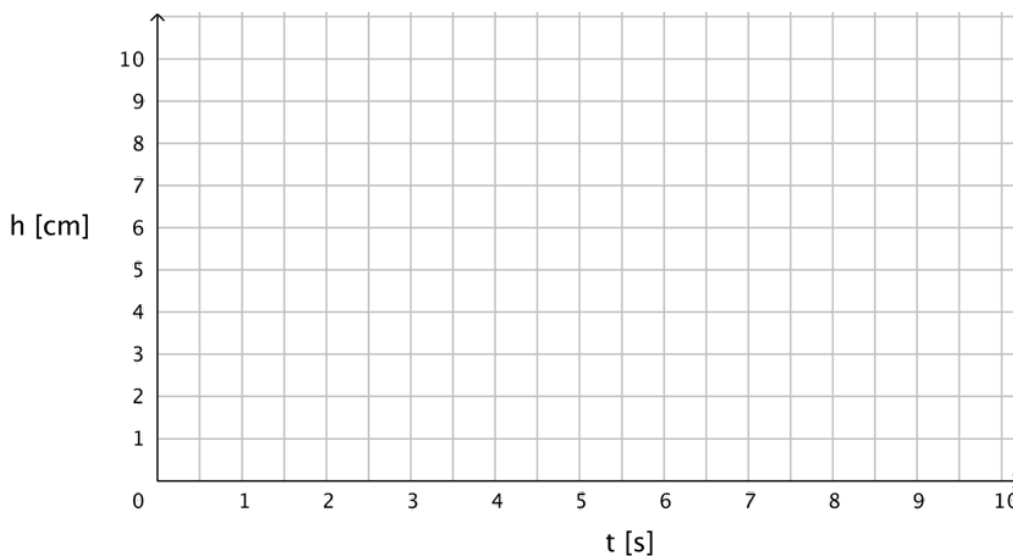
Aufgabe 3 (1,5+1,5+1=4 Punkte)

Aus einem Wasserhahn fliesst mit konstanter Geschwindigkeit Wasser in ein Gefäss. Das Wasser steigt im Gefäss die ersten 3 Sekunden um 1 cm pro Sekunde, dann für 2 Sekunden um 3 cm pro Sekunde und schliesslich während 4 Sekunden um 0,5 cm pro Sekunde.

- a) Zeichnen Sie den oben beschriebenen Vorgang in das folgende Koordinatensystem ein. Beachten Sie die Einheiten der Koordinatenachsen genau!




- b) Zeichnen Sie den oben beschriebenen Vorgang auch in das folgende Koordinatensystem ein. Beachten Sie die Einheiten der Koordinatenachsen genau!



Prf-Nummer:

c) Wie könnte ein Gefäss aussehen, damit es wie oben beschrieben gefüllt werden kann? Skizzieren Sie den Querschnitt eines solchen Gefässes.




Prf-Nummer:

Aufgabe 8 (1+2+2=5 Punkte)

Gegeben ist ein oben offener Zylinder mit Innenradius $r = 5$ cm und Höhe $h = 20$ cm.

- a) Ein Würfel wird so in den Zylinder gestellt, dass eine Begrenzungsfläche auf dem Zylinderboden liegt. Welche maximale Kantenlänge könnte der Würfel theoretisch haben, damit man ihn gerade noch in den Zylinder hineinstellen kann?
- b) Der Zylinder ist bis auf eine Höhe von 18 cm mit Wasser gefüllt. Ein Bleiwürfel mit Kantenlänge $k = 6$ cm wird nun vollständig in den Zylinder hineingetaucht. Wie viel Wasser fließt aus?
- c) Auf welche Höhe müsste der Zylinder zu Beginn mit Wasser gefüllt sein, damit nach dem Hineinstellen des Bleiwürfels der Zylinder randvoll mit Wasser gefüllt ist?



--